

2014 年度第2回 国際標準計算能力検定 レベル 1-2 模範解答

① 「かいだん 計算」を しましょう。

45 点 (各 1 点)

+	9	
1	10	

+	8	9
2	10	11

+	7	9	8
3	10	12	11

+	7	8	6	9
4	11	12	10	13

+	9	7	8	6	5
5	14	12	13	11	10

+	8	6	5	7	9	4
6	14	12	11	13	15	10

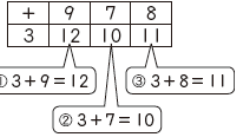
+	8	7	4	6	3	9	5
7	15	14	11	13	10	16	12

+	7	2	8	4	5	9	6	3
8	15	10	16	12	13	17	14	11

+	3	1	5	9	2	7	6	8	4
9	12	10	14	18	11	16	15	17	13

【計算のしかた】

●下の ①~③の ように、左の 数に、上の 数を たして、 答えを、□に かきましょう。



②

(1) 下の 図を 見て、□に あう 数を かきましょう。

左 ★ ○ ▲ □ △ ☆ ■ ● 右

① △ は 左から 5 番目です。 2 点

② ▲ は 右から 6 番目です。 2 点

(2) つぎの みかんに ○を つけましょう。

① 右から 4 回目 2 点



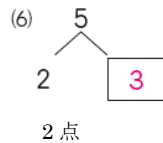
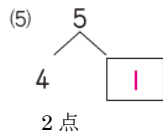
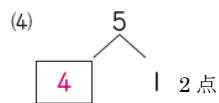
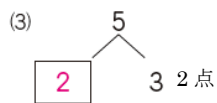
② 左から 2 回 2 点



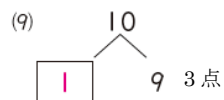
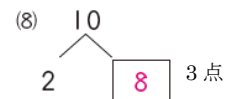
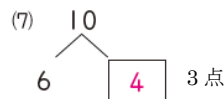
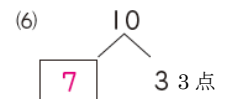
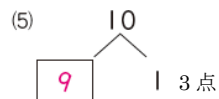
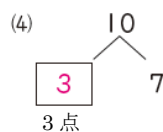
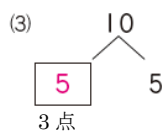
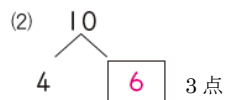
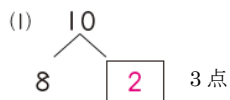
③ □に あう 数を かきましょう。

(1) 4 は 1 と 3 2 点

(2) 3 は 2 と 1 2 点



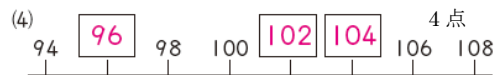
④ □に あう 数を かきましょう。



⑤ □に あてはまる 数を かきましょう。

(1) 7 — 8 — 9 — 10 — 11 3 点

(2) 18 — 17 — 16 — 15 — 14 3 点



2014 年度第2回 国際標準計算能力検定 レベル 1-2 模範解答

⑥ 計算を しましょう。

(1) $3 + 4 = 7$ 3点

(2) $6 + 2 = 8$ 3点

(3) $9 - 5 = 4$ 3点

(4) $8 - 3 = 5$ 3点

(5) $7 - 6 = 1$ 3点

⑦ 計算を しましょう。

(1) $5 + 6 = 11$ 3点

(2) $8 + 4 = 12$ 3点

(3) $7 + 6 = 13$ 3点

(4) $14 - 5 = 9$ 3点

(5) $17 - 9 = 8$ 3点

⑧ 計算を しましょう。

(1)
$$\begin{array}{r} 27 \\ + 32 \\ \hline 59 \end{array}$$
 4点

(2)
$$\begin{array}{r} 46 \\ + 14 \\ \hline 60 \end{array}$$
 4点

(3)
$$\begin{array}{r} 55 \\ + 67 \\ \hline 122 \end{array}$$
 4点

(4)
$$\begin{array}{r} 98 \\ + 87 \\ \hline 185 \end{array}$$
 4点

⑨ 計算を しましょう。

(1)
$$\begin{array}{r} 84 \\ - 43 \\ \hline 41 \end{array}$$
 4点

(2)
$$\begin{array}{r} 75 \\ - 58 \\ \hline 17 \end{array}$$
 4点

(3)
$$\begin{array}{r} 100 \\ - 69 \\ \hline 31 \end{array}$$
 4点

(4)
$$\begin{array}{r} 342 \\ - 74 \\ \hline 268 \end{array}$$
 4点

⑩ 計算を しましょう。

(1) $5 \times 3 = 15$ 4点

(2) $3 \times 9 = 27$ 4点

(3) $8 \times 4 = 32$ 4点

(4) $7 \times 7 = 49$ 4点

(5) $9 \times 6 = 54$ 4点

(6) $6 \times 8 = 48$ 4点

(7) $4 \times 6 = 24$ 4点

(8) $4 \times 5 = 20$ 4点